

GaloPro — Galop 2 - Quiz #3

10 questions • 16/04/2026 • 0 faciles 10 moyens 0 difficiles

1

NoTheme

Moyen

Quel est le nom de cette tache sur les membres ?



A. la balzane

B. la grande balzane

C. la liste

D. la trace de balzane

2

Les parties du corps du cheval

Moyen

Quel est le nom de cette partie de l'antérieur du cheval ?



A. les tendons

B. le genou

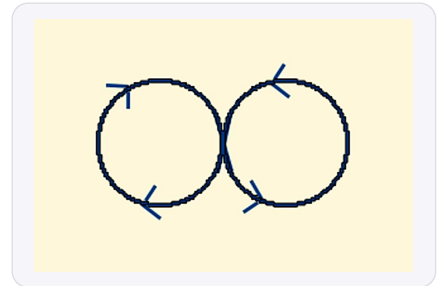
C. le sabot

D. le pli du paturon

3

Les figures de manèges

Moyen

Quel est le nom de cette figure de manège ?

A. la demi volte renversée

B. le doubler avec changement de main

C. le huit de chiffre

D. la serpentine

4

Connaissances de base

Moyen

À quel endroit se positionne le tapis ?

A. sur la croupe

B. sur l'avant du garrot

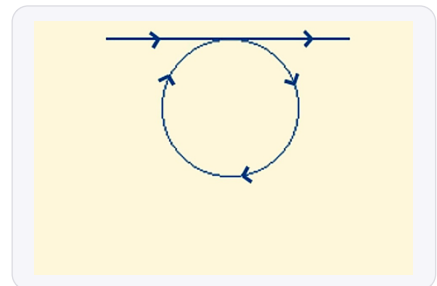
C. sur les membres

D. sur l'encolure

5

Les figures de manèges

Moyen

Quel est le nom de cette figure de manège ?

A. la serpentine

B. la volte

C. le contre changement de main

D. la diagonale

6

VRAI ou FAUX

Moyen

VRAI ou FAUX : À cheval, la priorité est à gauche.



A. FAUX

B. VRAI

7

Les soins du cheval

Moyen

Quel est le nom de cet aliment ?



A. les bonbons pour chevaux

B. le foin

C. le pain dur

D. le granulé

8

VRAI ou FAUX

Moyen

VRAI ou FAUX : Le tapis sert à reconnaître le poney.



A. VRAI


B. FAUX

9

Les parties du corps du cheval

Moyen

Quel est le nom de cette partie de l'antérieur du cheval ?



A. le paturon

B. le canon

C. la pointe de l'épaule

D. le bras

10

Les parties du corps du cheval

Moyen

Quel est le nom de cette partie de l'antérieur du cheval ?



A. le sabot

B. le paturon

C. la châtaigne

D. le sommet de l'épaule

Corrige

Q1. Quel est le nom de cette tache sur les membres ?

✓ **A. la balzane**

La balzane désigne une marque blanche située sur les membres du cheval, faisant partie des marques en tête et balzanes étudiées dès le Galop 1 pour identifier les chevaux. Pour bien retenir, pensez que les balzanes "chaussent" le cheval comme des chaussettes blanches.

Q2. Quel est le nom de cette partie de l'antérieur du cheval ?

✓ **D. le pli du paturon**

Le pli du paturon correspond à l'articulation située entre le paturon et le sabot, zone de flexion importante pour la locomotion du cheval selon le programme FFE. Cette articulation se plie à chaque foulée, d'où son nom facile à mémoriser.

Q3. Quel est le nom de cette figure de manège ?

✓ **C. le huit de chiffre**

Le huit de chiffre est une figure de manège composée de deux cercles qui se croisent au centre, formant le symbole du chiffre 8, enseignée dans les Galops de cavalier. Pour l'exécuter correctement, changez de main au point de croisement en restant bien sur la piste de vos cercles.

Q4. À quel endroit se positionne le tapis ?

✓ **B. sur l'avant du garrot**

Selon le programme FFE, le tapis se place sur l'avant du garrot pour protéger le dos du cheval et éviter les frottements de la selle. Veillez à ce qu'il soit bien centré et remontez-le légèrement dans la gouttière de la selle après sanglage.

Q5. Quel est le nom de cette figure de manège ?

✓ **B. la volte**

La volte est un cercle de 6 à 8 mètres de diamètre exécuté en un point quelconque du manège, figure fondamentale enseignée dès les premiers Galops. Pour réussir votre volte, gardez un diamètre régulier et revenez exactement à votre point de départ.

Q6. VRAI ou FAUX : À cheval, la priorité est à gauche.

✓ **B. VRAI**

En équitation, la priorité est effectivement à gauche selon le code de conduite à cheval enseigné dans le programme FFE. Cette règle permet d'éviter les collisions lors des croisements en carrière ou en extérieur, comme le code de la route pour les cavaliers.

Q7. Quel est le nom de cet aliment ?

✓ **D. le granulé**

Le granulé est un aliment concentré fabriqué industriellement sous forme de petits cylindres, constituant un complément nutritionnel important étudié dans les soins du cheval. Les granulés sont pratiques car ils contiennent tous les nutriments nécessaires dans un format facile à distribuer et à doser.

Q8. VRAI ou FAUX : Le tapis sert à reconnaître le poney.

✓ B. FAUX

Le tapis sert à protéger le dos du cheval des frottements de la selle et non à l'identifier, selon les connaissances de base du programme FFE. Pour reconnaître un cheval, on utilise ses marques naturelles (balzanes, en-tête) et éventuellement une plaque d'identification.

Q9. Quel est le nom de cette partie de l'antérieur du cheval ?

✓ C. la pointe de l'épaule

La pointe de l'épaule constitue la partie saillante et mobile de l'épaule du cheval, repère anatomique important pour comprendre la biomécanique du mouvement. Cette zone s'avance et recule à chaque foulée, permettant l'extension du membre antérieur.

Q10. Quel est le nom de cette partie de l'antérieur du cheval ?

✓ A. le sabot

Le sabot est la partie cornée qui protège l'extrémité du doigt du cheval, équivalent à notre ongle, organe vital étudié dès le Galop 1. Retenez l'expression "pas de pied, pas de cheval" qui souligne l'importance primordiale de cette partie du corps.
