

# GaloPro — Galop 2 - Quiz #4


10 questions • 16/04/2026 • 0 faciles 10 moyens 0 difficiles

1

Les parties du corps du cheval

Moyen

Quel est le nom de cette partie du postérieur du cheval ?



A. la couronne

B. le canon

C. la châtaigne

D. le pli du paturon

2

Connaissances intermédiaires

Moyen

Quelle race populaire de cheval est représentée ici ?



A. le postier breton

B. le pur-sang anglais

C. le shetland

D. le frisson

3

L' harnachement

Moyen

Quel élément fait partie de la selle ?



A. le mors

B. le pommeau

C. le frontal

D. les rênes

4

Les parties du corps du cheval

Moyen

Quel est le nom de cette partie de l'antérieur du cheval ?



A. la châtaigne

B. Le sommet de l'épaule

C. le paturon

D. le boulet

5

VRAI ou FAUX

Moyen

VRAI ou FAUX : L'époussette sert à lustrer le poil du cheval.



A. VRAI

B. FAUX

6

Règles de sécurité

Moyen

Maxime est au trot à main droite et Juliette est au pas à main gauche. Qui a la priorité ?



A. aucun

B. Maxime

C. les deux


D. Juliette

7

L' harnachement

Moyen

Quel est le rôle de la sous-gorge ?



A. attacher le cheval

B. tenir le filet en place

C. limiter l'ouverture de la bouche

D. faire joli

8

Les parties du corps du cheval

Moyen

Quel est le nom de cette partie du postérieur du cheval ?



A. le pli du paturon

B. la hanche

C. la châtaigne


D. la fesse

9

Les soins du cheval

Moyen

Combien de litres d'eau un cheval boit-il en moyenne par jour ?



A. 10 à 30 litres

B. 80 à 100 litres

C. 25 à 75 litres


D. 5 à 10 litres

10

Les parties du corps du cheval

Moyen

Quel est le nom de cette partie de l'antérieur du cheval ?



A. l'avant-bras

B. la pointe de l'épaule

C. le genou

D. la hanche

---

# Corrige

---

**Q1. Quel est le nom de cette partie du postérieur du cheval ?**

✓ **B. le canon**

*Le canon est l'os situé entre le jarret et le boulet sur le postérieur du cheval, cette connaissance anatomique est fondamentale dès le Galop 1. Pour bien le mémoriser, pensez que c'est la partie la plus droite et solide de la jambe, comme un canon de fusil.*

---

**Q2. Quelle race populaire de cheval est représentée ici ?**

✓ **A. le postier breton**

*Le postier breton est une race française robuste et polyvalente, originaire de Bretagne, que tout cavalier doit savoir identifier selon le programme FFE. Reconnaisable à sa corpulence solide et sa robe souvent alezan, c'est un cheval de trait léger très apprécié pour sa docilité.*

---

**Q3. Quel élément fait partie de la selle ?**

✓ **B. le pommeau**

*Le pommeau est la partie avant surélevée de l'arçon de la selle, élément essentiel de la sellerie étudié dès le Galop 2. Il ne faut jamais s'y accrocher pour monter car cela déséquilibre la selle et peut blesser le cheval.*

---

**Q4. Quel est le nom de cette partie de l'antérieur du cheval ?**

✓ **A. la châtaigne**

*La châtaigne est une petite excroissance cornée située à l'intérieur des membres, vestige de l'évolution du cheval. Astuce pour s'en souvenir : elle a la couleur et la forme d'une châtaigne, et chaque cheval en a une forme unique comme une empreinte digitale.*

---

**Q5. VRAI ou FAUX : L'époussette sert à lustrer le poil du cheval.**

✓ **A. VRAI**

*L'époussette est effectivement utilisée pour lustrer et faire briller le poil après le pansage, c'est un outil indispensable du matériel de pansage. Utilisez-la en dernier, par mouvements légers dans le sens du poil pour donner de l'éclat à la robe.*

---

**Q6. Maxime est au trot à main droite et Juliette est au pas à main gauche. Qui a la priorité ?**

✓ **B. Maxime**

*Maxime a la priorité car il évolue à une allure supérieure (trot) par rapport à Juliette (pas), selon les règles de priorité en carrière. Retenez la règle : l'allure la plus rapide est toujours prioritaire, puis en cas d'égalité, la main droite est prioritaire sur la main gauche.*

---

**Q7. Quel est le rôle de la sous-gorge ?**

✓ **B. tenir le filet en place**

*La sous-gorge maintient le filet en place en empêchant qu'il ne passe par-dessus les oreilles du cheval. Elle doit être ajustée pour laisser passer la largeur d'une main entre elle et la gorge du cheval.*

---

---

**Q8. Quel est le nom de cette partie du postérieur du cheval ?**

✓ **B. la hanche**

*La hanche correspond à l'articulation et à la région musculaire située entre la croupe et le flanc sur le postérieur. Pour la localiser facilement, c'est la partie la plus saillante sur le côté du postérieur, bien visible quand on regarde le cheval de profil.*

---

**Q9. Combien de litres d'eau un cheval boit-il en moyenne par jour ?**

✓ **C. 25 à 75 litres**

*Les besoins en eau varient énormément selon la température, l'activité et la taille du cheval, d'où cette fourchette large de 25 à 75 litres. Un cheval doit toujours avoir accès à une eau propre et fraîche, surtout après l'effort où ses besoins augmentent considérablement.*

---

**Q10. Quel est le nom de cette partie de l'antérieur du cheval ?**

✓ **C. le genou**

*Le genou est l'articulation située au milieu de l'antérieur, entre l'avant-bras et le canon, équivalent à notre poignet. Attention à ne pas le confondre avec le jarret qui est l'articulation correspondante sur le postérieur.*

---