

# GaloPro — Galop 2 - Quiz #5


10 questions • 16/04/2026 • 0 faciles 10 moyens 0 difficiles

1

Les parties du corps du cheval

Moyen

Quel est le nom de cette partie de l'antérieur du cheval ?



A. les tendons

B. le paturon

C. le sabot


D. le bras

2

Les parties du corps du cheval

Moyen

Quel est le nom de cette partie du postérieur du cheval ?



A. le pli du jarret

B. le sabot

C. la fesse

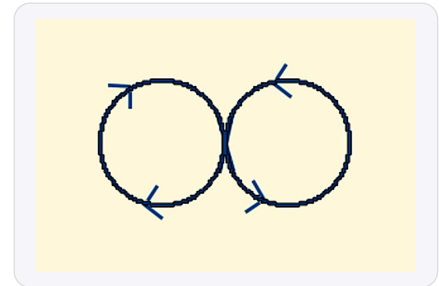
D. la jambe

3

Les figures de manèges

Moyen

Quel est le nom de cette figure de manège ?



A. la serpentine

B. le doubler avec changement de main

C. le huit de chiffre

D. la demi volte renversée

4

Les parties du corps du cheval

Moyen

Quel est le nom de cette partie du postérieur du cheval ?



A. le pli du jarret

B. le talon

C. le sabot

D. les tendons

5

Connaissances intermédiaires

Moyen

Quel est le nom de cette tache sur les membres ?



A. la trace de balzane

B. la liste

C. la grande balzane


D. la balzane

6

Les parties du corps du cheval

Moyen

Quel est le nom de cette partie du postérieur du cheval ?



A. la châtaigne

B. la pointe de la fesse

C. le canon


D. la couronne

7

Les parties du corps du cheval

Moyen

Quel est le nom de cette partie de l'antérieur du cheval ?



A. le genou

B. la pointe de l'épaule

C. la hanche

D. l'avant-bras

8

Connaissances intermédiaires

Moyen

Quelle race populaire de cheval est représentée ici ?



A. le frisson

B. le trotteur français

C. le percheron


D. le shetland

9

Les parties du corps du cheval

Moyen

Quel est le nom de cette partie du postérieur du cheval ?



A. le pli du paturon

B. la hanche

C. la fesse

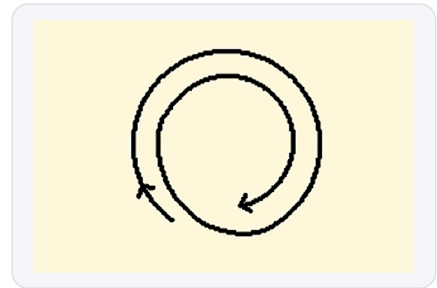
D. la châtaigne

10

Les figures de manèges

Moyen

Quel est le nom de cette figure de manège ?



A. la diagonale

B. la volte

C. la spirale

D. la serpentine

---

# Corrige

---

**Q1. Quel est le nom de cette partie de l'antérieur du cheval ?**

✓ **D. le bras**

*Le bras correspond à la partie de l'antérieur située entre l'épaule et le coude, conformément à l'anatomie équine enseignée dès le Galop 1. Pour bien le repérer, il se trouve dans le prolongement de l'épaule vers le bas, avant l'articulation du coude.*

---

**Q2. Quel est le nom de cette partie du postérieur du cheval ?**

✓ **D. la jambe**

*La jambe désigne la partie du postérieur comprise entre la cuisse et le jarret, selon la terminologie anatomique officielle du programme FFE. Ne pas confondre avec le membre entier : la jambe n'est qu'une portion spécifique du postérieur du cheval.*

---

**Q3. Quel est le nom de cette figure de manège ?**

✓ **C. le huit de chiffre**

*Le huit de chiffre est une figure composée de deux cercles qui se croisent au centre du manège, formant le symbole du chiffre 8. Cette figure permet de travailler l'incurvation et les changements de main, en alternant les courbes à droite et à gauche.*

---

**Q4. Quel est le nom de cette partie du postérieur du cheval ?**

✓ **B. le talon**

*Le talon correspond à la partie arrière et inférieure du sabot du cheval, située sous la couronne. Cette zone est importante à connaître pour comprendre l'appui du cheval et repérer d'éventuels problèmes de ferrure.*

---

**Q5. Quel est le nom de cette tache sur les membres ?**

✓ **D. la balzane**

*La balzane est une marque blanche naturelle située sur les membres du cheval, faisant partie de ses particularités individuelles. Ces marques blanches permettent d'identifier précisément un cheval et sont notées sur ses papiers d'identité.*

---

**Q6. Quel est le nom de cette partie du postérieur du cheval ?**

✓ **B. la pointe de la fesse**

*La pointe de la fesse correspond à l'extrémité de la croupe, partie la plus reculée et saillante de l'arrière-main du cheval. Cette zone anatomique marque la limite arrière du corps du cheval et aide à évaluer sa conformation.*

---

**Q7. Quel est le nom de cette partie de l'antérieur du cheval ?**

✓ **A. le genou**

*Le genou est l'articulation de l'antérieur située entre l'avant-bras et le canon, équivalent au poignet chez l'homme. Cette articulation est fragile et doit être protégée lors du transport ou de certains exercices.*

---

**Q8. Quelle race populaire de cheval est représentée ici ?**

✓ **A. le frisson**

*Le Frison est une race de cheval originaire des Pays-Bas, reconnaissable à sa robe noire et ses crins abondants. Cette race élégante et puissante est appréciée pour l'attelage et le dressage, avec son trot relevé caractéristique.*

---

---

**Q9. Quel est le nom de cette partie du postérieur du cheval ?**

✓ **B. la hanche**

*La hanche correspond à l'articulation coxo-fémorale du postérieur, partie saillante visible de profil sur l'arrière-main. Une bonne conformation des hanches est essentielle pour la propulsion et la locomotion du cheval.*

---

**Q10. Quel est le nom de cette figure de manège ?**

✓ **C. la spirale**

*La spirale est une figure où le cheval décrit des cercles de diamètre progressivement décroissant vers l'intérieur, puis croissant vers l'extérieur. Cette figure développe la souplesse, l'engagement des postérieurs et la précision du contrôle de l'incurvation.*

---